

الأسئلة

الدرس الاول

www.Ta3leem.Net


(أ) اختر الإجابة الصحيحة:-

- (١) الفقاريات هي حيوانات عمود فقارى (لديها - ليس لديها)
- (٢) الحيوانات التى ليس لديها عمود فقارى هي (اللافقاريات - الفقاريات)
- (٣) حيوانات فقارى (الجمبرى - الدولفين)
- (٤) السمكة عمود فقارى (لديها - ليس لديها)
- (٥) القوط من (اللافقاريات - الفقاريات)

(ب) ضع علامة (✓) أو علامة (x):-

- (١) اللافقاريات ليس لديها عمود فقارى ()
- (٢) ديدان الأرض من الفقاريات ()
- (٣) الحشرات والعناكب لديها عمود فقارى ()
- (٤) السلاحف من الفقاريات ()
- (٥) الكابوريا ليس لديها عمود فقارى ()





(ج) وصل:-

(١) الأسد

(٢) نجم البحر

(٣) الثعبان

(٤) النحلة

(١) فقاريات

(٢) لافقاريات

(د) أكمل مما بين الاقواس:-

(عمود فقري - لديها - ليس لديه - فراشة)


(١) الفقاريات عمود فقري .

(٢) القرش لديه

(٣) الجمبرى عمود فقري .

(٤) حيوان لا فقري .





(د) ضع دائرة حول الصورة الصحيحة:-



١- الفقاريات




٢- ليس لديها عمود فقارى



٣- اللافقاريات

موقع تعليم روت نت





الدرس الثاني


www.Ta3leem.Net (١) اختار الإجابة الصحيحة :-

- (أ) قنديل البحر يعيش فى (الماء – الصحراء)
- (ب) يعيش فى المناطق المتجمدة (الدب القطبي – الحصان)
- (ج) الزرافة تعيش فى (الغابة – الصحراء)
- (د) الطيور تتحرك بواسطة (الزعانف – جناحين)
- (و) يتحرك بواسطة الزحف (التمساح – البطة)

(٢) ضع علامة (√) أو علامة (×) :-

- (أ) الأسد يعيش فى المناطق المتجمدة ()
- (ب) البطريق يعيش فى المناطق المتجمدة ()
- (ج) سمكة القرش تعيش فى الماء ()
- (د) الثعبان يتحرك بواسطة الزعانف ()
- (و) السلحفاة تتحرك بواسطة جناحين ()





٣) وصل :-

الغابة

١- الدب القطبي يعيش فى

المناطق المتجمدة

٢- الثعبان يتحرك بواسطة

الزعانف

٣- السمكة تتحرك بواسطة

الزحف

٤- الأسد يتحرك بواسطة

الصحراء

٥- النمر يعيش فى

اربع ارجل

٤) أكمل مما بين الأقوسين :-

(الحوت – السحلية – الغابة – المناطق المتجمدة – القرد)

أ) تزحف


ب) الأسد يعيش فى

ج) يعيش فى الغابة

د) يتحرك بواسطة الزعانف

و) البطريق يعيش فى





٥) ضع دائرة حول الصور الصحيحة :-



أ) حيوانات تمشى على اربع ارجل.



ب) حيوانات تعيش فى المناطق المتجمدة.




ج) حيوانات تتحرك بواسطة جناحين.



د) النمر تعيش فى .





الدرس الثالث

1) اختر الإجابة الصحيحة :-

(فراء - قشور)

(الثعابين - الارنب)

(الصوف - القشور)

(تلد - تبيض)

(الريش - الفراء)

أ) القطط جسمها مغطى بـ

ب) بعض الحيوانات تلد مثل

ج) الاسماك مغطاة بـ

د) الافيال

و) البطم مغطى بـ

2) ضع حول الحيوانات التى تضع بيض :-



٣) وصل :-

مغطى بالقشور

أ) الدجاجة

تضع البيض

ب) السمك

مغطى بالفراء


ج) الثعبان

مغطى بالحر اشييف

د) الارنب

٤) ضع دائرة حول الحيوانات المغطى جسمها بالفراء :-





٥) أكمل مما بين القوسين :-

(عصفور - حراشيف - فراء - صوف - ريش)

أ) الارنب جسمه مغطى

ب) تضع البيض

ج) الثعبان جسمه مغطى

د) الماعز جسمها مغطى

و) الطيور جسمها مغطى

٦) ضع علامة (✓) أو علامة (×) :-

()

أ) الثعبان يلد

()

ب) الاسد يضع البيض

()

ج) الثعبان جسمه مغطى بالحراشيف


()

د) الدب جسمه مغطى بالفراء

()

ج) بعض الحيوانات تلد مثل الكلب





الأجابة

الدرس الاول

www.Ta3leem.Net

(أ) اختر الإجابة الصحيحة:-

- (١) الفقاريات هي حيوانات عمود فقارى (لديها - ليس لديها)
- (٢) الحيوانات التى ليس لديها عمود فقارى هي (الفقاريات - اللافقاريات)
- (٣) حيوانات فقارى (الجمبرى - الدولفين)
- (٤) السمكة عمود فقارى (لديها - ليس لديها)
- (٥) القطط من (الفقاريات - اللافقاريات)

(ب) ضع علامة (√) أو علامة (×):-

- (١) اللافقاريات ليس لديها عمود فقارى (√)
- (٢) ديدان الأرض من الفقاريات (×)
- (٣) الحشرات والعناكب لديها عمود فقارى (×)
- (٤) السلاحف من الفقاريات (√)
- (٥) الكابوريا ليس لديها عمود فقارى (√)



(ج) وصل:-

- (١) الأسد
- (٢) نجم البحر
- (٣) الثعبان
- (٤) النحلة
- ١- فقاريات
- ٢- لافقاريات

(د) أكمل مما بين الاقواس:-

(عمود فقري - لديها - ليس لديها - فراشة)

١. الفقاريات لديها عمود فقري .

٢. القرش لديه عمود فقري .

٣. الجمبري ليس لديه عمود فقري .

٤. الفراشة حيوان لا فقري .



(د) ضع دائرة حول الصورة الصحيحة:-




١. الفقاريات

٢. ليس لديها عمود فقارى

٣. اللافقاريات

موقع تعليم روت نت





الدرس الثاني

www.Ta3leem.Net (١) اختار الإجابة الصحيحة :-

- (أ) قنديل البحر يعيش فى (الماء - الصحراء)
- (ب) يعيش فى المناطق المتجمدة (الدب القطبي - الحصان)
- (ج) الزرافة تعيش فى (الغابة - الصحراء)
- (د) الطيور تتحرك بواسطة (الزعانف - جناحين)
- (و) يتحرك بواسطة الزحف (التمساح - البطة)

٢) ضع علامة (✓) أو علامة (×) :-

- (أ) الأسد يعيش فى المناطق المتجمدة (×)
- (ب) البطريق يعيش فى المناطق المتجمدة (✓)
- (ج) سمكة القرش تعيش فى الماء (✓)
- (د) الثعبان يتحرك بواسطة الزعانف (×)
- (و) السلحفاة تتحرك بواسطة جناحين (×)



٣) وصل :-

- ١- الدب القطبي يعيش فى الغابة
٢- الثعبان يتحرك بواسطة المناطق المتجمدة
٣- السمكة تتحرك بواسطة الزعانف
٤- الأسد يتحرك بواسطة الزحف
٥- النمر يعيش فى الصحراء
- الغابة
المناطق المتجمدة
الزعانف
الزحف
الصحراء
اربع ارجل

٤) أكمل مما بين الأقوسين :-

(الحوت – السحلية – الغابة – المناطق المتجمدة – القرد)

أ) السحلية تزحف

ب) الأسد يعيش فى الغابة

ج) القرد يعيش فى الغابة

د) الحوت يتحرك بواسطة الزعانف

و) البطريق يعيش فى المناطق المتجمدة




٥) ضع دائرة حول الصور الصحيحة :-




أ) حيوانات تمشى على اربع ارجل.



ب) حيوانات تعيش فى المناطق المتجمدة.



ج) حيوانات تتحرك بواسطة جناحين.



د) النمر تعيش فى .



الدرس الثالث

١) اختار الإجابة الصحيحة :-

(فراء - قشور)

(الثعابين - الارنب)

(الصوف - القشور)

(تلد - تبيض)

(الريش - الفراء)

أ) القطط جسمها مغطى بـ

ب) بعض الحيوانات تلد مثل

ج) الاسماك مغطاة بـ

د) الافيال

و) البط مغطى بـ

٢) ضع حول الحيوانات التى تضع بيض :-



٣) وصل :-

أ) الدجاجة ← مغطى بالقشور


ب) السمك ← تضع البيض

ج) الثعبان ← مغطى بالفراء

د) الارنب ← مغطى بالحر اشفيف

٤) ضع دائرة حول الحيوانات المغطى جسمها بالفراء :-





٥) أكمل مما بين القوسين :-

(عصفور - حراشيف - فراء - صوف - ريش)

أ) الارنب جسمه مغطى بالفراء

ب) العصفورة تضع البيض

ج) الثعبان جسمه مغطى بالحراشيف

د) الماعز جسمها مغطى بالصوف

و) الطيور جسمها مغطى بالريش

٦) ضع علامة (✓) أو علامة (×) :-

أ) الثعبان يلد (×)

ب) الاسد يضع البيض (×)

ج) الثعبان جسمه مغطى بالحراشيف (✓)

د) الدب جسمه مغطى بالفراء (✓)

ج) بعض الحيوانات تلد مثل الكلب (✓)

